

# MATEMATİĞİ SEVİYORUM

1.Aşağıdaki resimleri kısıdan uzuna doğru sıralanmış şekli aşağıdakilerden hangisidir ?



K L M N S

a) M-K-L-S-N    b) S-M-L-K-N    c) K-L-M-N-S

2) Aşağıdakilerden hangisi haftanın günleri kümesinin elemanıdır?

a) Aralık    b) İlkbahar    c) Pazartesi

3) 5 onluk ve 8 birlikten oluşan sayıdan 15 çıkarsa kaç kalır?

a) 43    b) 58    c) 73

4) 2 deste kalem ile 1 düzine kalem sayının toplamı kaç kalem eder?

a) 21    b) 32    c) 34

5) 64 sayısının çözümlenmiş hali hangisidir?

a) 4 onluk 6 birlik    b) 6 onluk 6 birlik    c) 6 onluk 4 birlik

6-)Törehan'ın 12 misketi ,Furkan'ın Törehan'dan 3 tane fazla misketi vardır.İkisinin toplam kaç misketi vardır?

a)15    b)27    c)30

# MATEMATİĞİ SEVİYORUM

7)  $4 + 4 + 4 + 4 + 4 + 4 + 4 = 28$  toplama işleminin kısa gösterilişi hangisidir?  
a)  $4 \times 6$                       b)  $7 \times 4$                       c)  $4 \times 4$

8) 
$$\begin{array}{r} 24 \\ \times 2 \\ \hline \end{array}$$
 Yandaki çarpma işleminin sonucu kaçtır?  
a) 24                      b) 48                      c) 58


















9) İki sayının toplamı 38 'dir. Sayılardan biri 14 olduğuna göre diğer sayı kaçtır?  
a) 24                      b) 14                      c) 8

10) 

40	36	32	?	24	20	16	12
----	----	----	---	----	----	----	----

 sayı dizisinde boşluğa hangi sayı gelmelidir?  
a) 29                      b) 28                      c) 30

11) Aşağıda hayvanat parkındaki hayvanlara ait grafik çıkarılmıştır. Grafiğe göre hayvanat parkında toplam kaç hayvan vardır? (Not : Her şekil 2 hayvanı temsil etmektedir. )

Hayvanat Parkındaki Hayvanların Grafiği	
Aslan	     
Atlar	     
Kurbağa	    

Not : Her şekil 2 hayvanı temsil etmektedir.

a) 17                      b) 32                      c) 34

# ANLAMA ÇALIŞMASI

## AĞAÇLAR

Seninle bütünleşir,  
Bu doğa.

Seninle güzelleşir,  
Üzerinde yaşadığımız dünya.

Yeşil yapraklarını uzat bana.  
Canlan, neşe getir dünyama,

Sana zarar verirmiş  
Kimi böcekler, hayvanlar

Yararlarını bilmezmiş,  
Bazı cahil insanlar  
Yeşil yapraklarını uzat bana.  
Canlan, neşe getir dünyama  
(Asena Baktır Çocuk şiirleri ontolojisi)



(Aşağıdaki 4 soruyu parçaya göre cevaplayınız)

1-Şiirde ne anlatılıyor?

a) İnsanlar      b) Böcekler      c) Ağaçlar

2-Doğayı güzelleştiren nedir?

a) Dünya      b) Ağaçlar      c) Böcekler

3-Ağaçlara kimler zarar verirmiş?

a) İnsanlar      b) Böcekler      c) Doğa

4- Şiirin birinci kıtasında kaç sözcük var?

a) 17      b) 10      c) 9

5-Ünlü harf sayısı en fazla olan sözcük hangisidir?

a) Sağlık      b) Trafik      c) Okulumuz

6-Ünsüz harf sayısı en fazla olan sözcük hangisidir?

a) Şemsiye      b) yalnız      c) Prenses

# ANLAMA ÇALIŞMASI

7-Aşağıdakilerden hangisinin sonuna noktalama işareti yanlış konulmuştur?

- a) Aman dikkatli olun kar buz olmuş!
- b) Hanginiz yaptı bunu ?
- c) Güzel mi güzel olmuş ?

8-Aşağıdakilerden hangisi yanlış yazılmıştır?

- a) Bugün Şeyma bize geldi.
- b) Koş, minnoş bahçeye çıkmış.
- c) Ahmet Adana'ya gitmiş.

9-Aşağıdakilerden hangisinde özel isim var?

- a) Annem ve babam alış verişe gitti.
- b) Karabaş süt içmeyi çok sever.
- c) Okulumu çok severim.

10-"yaşta- değil- akıl- baştadır." Sözcükleri ile düzgün bir cümle yaparsak,baştan 3. sözcük hangisi olur?

- a)değil                      b) akıl                      b) baştadır

11-Aşağıdakilerden hangisi hecelerine doğru ayrılmıştır?

- a) Cev- iz- li              b) Ok- u- lu- muz              c) A-ğus-tos

12-Aşağıdaki sözcüklerin hangisi sözlükte en son yer alır?

- a) Çağrı                      b) Kasket                      c) Mide

13-Aşağıdakilerden hangisi hem hece hem kelimedir?

- a) ler                      b)bak                      c) de

14-Aşağıdakilerden hangisinde zıt anlamlılar bir arada kullanılmıştır?

- a) Bir aşağı bir yukarı koşuşturup duruyordu.
- b) Güzel güzel oynuyordu.
- c) Kırmızı elbisesinin üstüne siyah manto giymiş.

15 ) Aşağıdakilerden hangisi farklı anlama gelir?

- a) Bir elin nesi var iki elin sesi var.
- b) Damlaya damlaya göl olur.
- c)Sakla samanı gelir zamanı.